

一、是非題：正確的打「○」，錯誤的打「x」5% (每題 1 分)

- (1) () 2009 讀作二零零九。
 (2) () 拿直尺測量物品時，將物品對準尺上任一個刻度，最後尺上的刻度就是量出的長度。
 (3) () 有一個四邊形，它的邊長分別是 6 公分、6 公分、6 公分、6 公分，這個四邊形一定是正方形。
 (4) () 甲數比乙數小，所以在數線上甲數會在乙數的右邊。
 (5) () 做乘法直式計算時，被乘數個位數和乘數的十位數要對齊。

二、選擇題：12% (每題 2 分)

- (1) () 下面哪一個長度最短？(①75 毫米 ②6 公分 2 毫米 ③16 公分 ④6 公尺)。
 (2) () 最小的四位數和最大的三位數相差多少？(①1999 ②1000 ③8999 ④1)。
 (3) () 下圖中，灰色和白色的角，哪一個角度比較大？

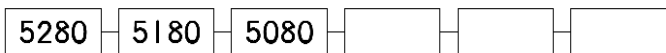


- (①灰色 ②白色 ③一樣大 ④無法判斷)。

- (4) () 如何比較角的大小？(①用尺量邊的長度 ②將兩個角直接疊合比較 ③將頂點對齊就可以 ④用三角板直接量)。
 (5) () 把 70 連加 8 次的結果，會和下面哪一個算式的答案相同？(①70+8 ②70-8 ③70×8 ④70÷8)。
 (6) () 若 $A \times B = 36$ ， $A + B$ 的最大值是多少 (A、B 皆為整數)？(①20 ②12 ③37 ④13)

三、填填看：20% (每格 1 分)

(1) 按照順序填填看。




(2) 用 6、1、0、9 排成的四位數中，最大的數是 ()，最小的數是 ()。

【數字不能重複】

(3) □ 中可以填入哪些數？全部寫出來。

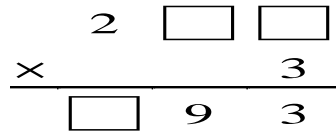
$8700 < 9\square 53$ ， $\square = ()$ 。

(4) 下圖的數線上有 3 個數，分別是甲、乙、丙，已經知道甲比丙大，乙比甲大，甲是 ()，乙是 ()，丙是 ()。

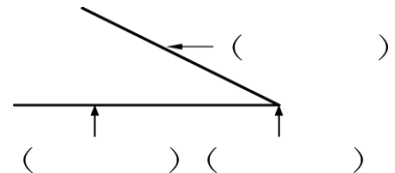


- (5) $26 \times 6 = ()$
 $260 \times 6 = ()$

(6) 在 □ 中填入正確的數字。【全對才給分】



(7) 填上角的各部位名稱：



(8) 填入正確數字

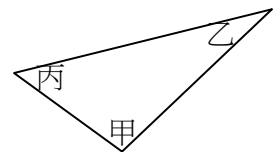
- ①608 毫米 = () 公分 () 毫米
 ②5 公尺 6 公分 = () 毫米

(9) 填入毫米、公分或公尺

- ①一張椅子的高度約 900 ()。
 ②爸爸的身高約 180 ()。
 ③101 大樓的高度約 509 ()。

四、看圖做做看：9% (每答 1 分)

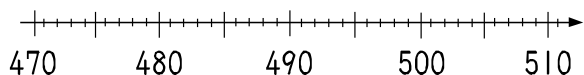
1. 右圖中 () 角最大。



2. 比直角小的打 X，比直角大的畫 V，和直角一樣大的打 O。

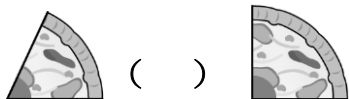
- (1) () (2) () (3) ()
 (4) () (5) () (6) ()

3. 在數線上標出475、483、497、506的位置。



五、在 () 內填入 <、> 或 = : 10% (每題2分)

- (1) 五千零二 () 5200
- (2) 7 公分 12 毫米 () 712 毫米
- (3) $2000 + 4000$ () $1999 + 3999$
- (4) 30×5 () $30 + 30 + 30 + 30 + 30$
- (5) 比較兩個角的大小：



()

六、畫畫看 : 3%

畫 $\boxed{1000}$ 、 $\boxed{100}$ 、 $\textcircled{10}$ 和 $\textcircled{1}$ 來表示下面的數量：

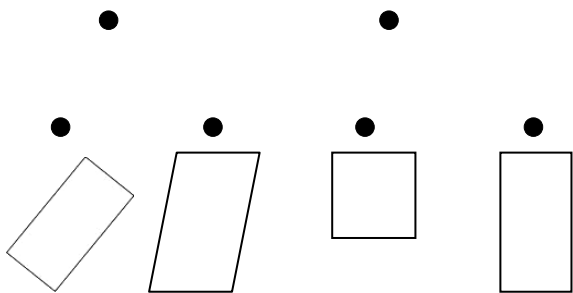
爸爸買了一架 6523 元的照相機，畫出錢的數量。



七、連連看 3% (每答 1 分)

$\boxed{\text{正方形}}$

$\boxed{\text{長方形}}$



八、用直式算算看 : 18% (每題 3 分)

(1) $5531 + 2799 =$ (2) $8400 - 1999 =$

(3) $659 \times 3 =$ (4) $608 \times 6 =$

(5) 42 公分 6 毫米 + 21 公分 8 毫米
= () 公分 () 毫米

(6) 9 公分 - 5 公分 6 毫米 = () 毫米

九、應用題 : 20% (每題 4 分)

(1) 科博館昨天賣出 5658 張門票，今天比昨天多賣出 1642 張，今天賣出多少張門票？

(2) 爸爸每天都存 530 元，一星期可以存多少元？

(3) 有大、小兩數，大數是小數的 8 倍多 25，已知小數是 19，大、小兩數相差多少？

(4) 甲螞蟻和乙螞蟻 $\boxed{\text{同時同地反方向}}$ 出發，甲螞蟻走了 3 公分 5 毫米，乙螞蟻走了 2 公分 9 毫米，兩隻螞蟻現在相距幾公分幾毫米？

(5) 牛排店的 A 套餐要 1608 元，B 套餐要 1258 元，C 套餐要 1088 元。媽媽點了一份 B 套餐，爸爸點了一份 C 套餐，他們共要付多少元？

寫完了可別忘了多檢查幾遍喔！

祝福你考高分！